



الصف السادس

رياضيات

ورقة عمل 18

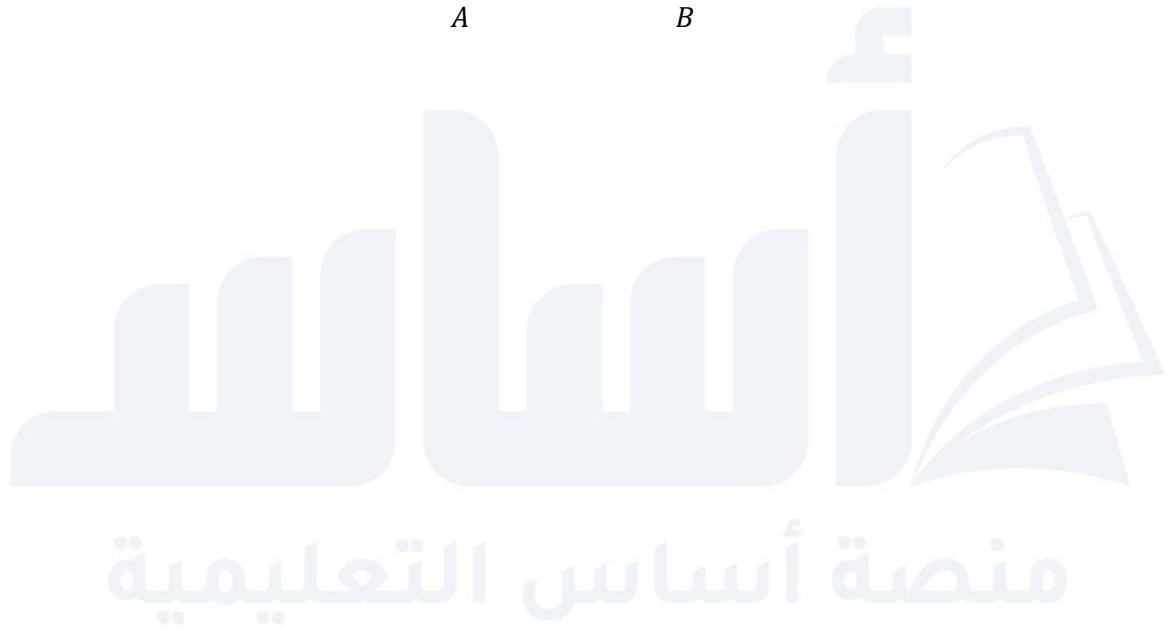

س1: ارسم قطعة مستقيمة طولها 6 cm ، ثم نَصّفها باستعمال المسطرة والفرجار.

س2: ارسم زاوية قياسها 100° ، ثم نَفّها باستعمال المسطرة والفرجار.

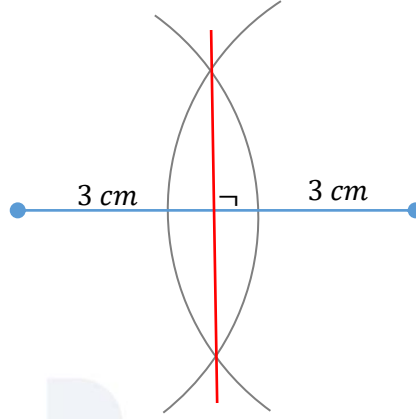
منصة أساس التعليمية

س3: أنشئ عموداً على المستقيم \overleftrightarrow{AB} من النقطة M .

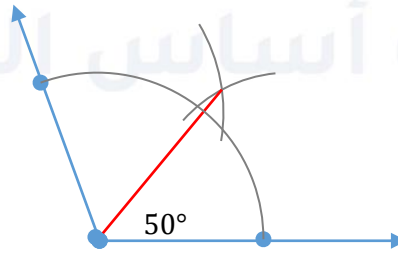
M



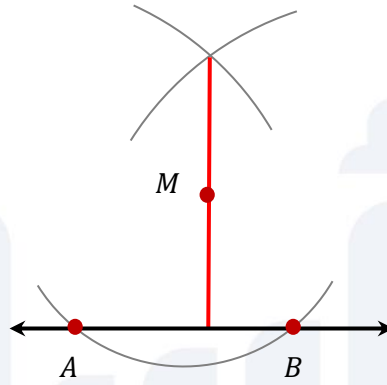
س1: ارسم قطعة مستقيمة طولها 6 cm ، ثم نصفها باستعمال المسطرة والفرجار.



س2: ارسم زاوية قياسها 100° ، ثم نصفها باستعمال المسطرة والفرجار.

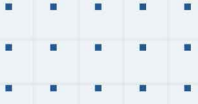


س3: أنشئ عموداً على المستقيم \overleftrightarrow{AB} من النقطة M .



منصة أساس التعليمية





فيديوهات شرح المادة بشكل كامل على بطاقات أساس



06 222 9990

0799 797 880

