



الصف الخامس

رياضيات

ورقة عمل 9

النسبة المئوية

س1: اكتب ما يلي باستخدام رمز النسبة المئوية:

① $\frac{23}{100}$


② $\frac{7}{100}$

س2: مدرسة أساسية فيها 100 طالب وطالبة، عدد الإناث 60:

أ. ما النسبة المئوية لعدد الإناث؟

ب. ما النسبة المئوية لعدد الذكور؟

س3: ما النسبة المئوية التي تمثل الجزء المظلل؟



س1: اكتب ما يلي باستخدام رمز النسبة المئوية:

① $\frac{23}{100} = 23 \%$

② $\frac{7}{100} = 7 \%$

س2: مدرسة أساسية فيها 100 طالب وطالبة، عدد الإناث 60:

أ. ما النسبة المئوية لعدد الإناث؟

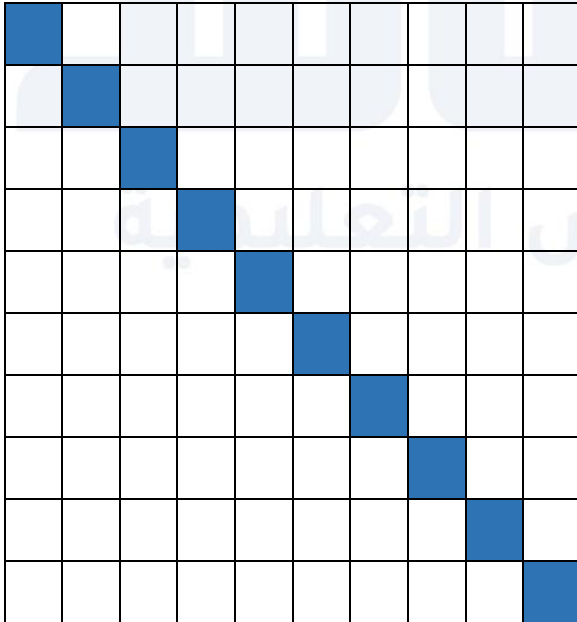
60 %

ب. ما النسبة المئوية لعدد الذكور؟

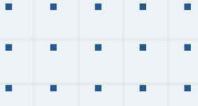
$40 = 100 - 60 = \text{عدد الذكور}$

40 %

س3: ما النسبة المئوية التي تمثل الجزء المظلل؟



10 %



فيديوهات شرح المادة بشكل كامل على بطاقات أساس



06 222 9990

0799 797 880

