

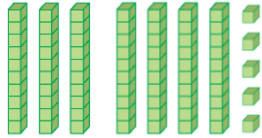


الصف الأول

رياضيات

الامتحان النهائي

السؤال الأول : اكتب عدد العشرات وعدد الآحاد ، ثم اكتب العدد



عَشْرَاتٍ

آحَادٍ

الْعَدَدُ

السؤال الثاني : حوّل القيمة المنزلية للعدد الذي تحته خط

:



34 (3 30)



95 (5 50)

السؤال الثالث : استمع إلى المعلمة واكتب الأعداد بالأرقام

:

خمسة وتسعون

أربعون

السؤال الرابع : اكمل العد حسب المطلوب :

0	2			8			14		18	
---	---	--	--	---	--	--	----	--	----	--

0	5		15	20			35			50
---	---	--	----	----	--	--	----	--	--	----

السؤال الخامس : اكتب العدد المناسب في الفراغ :

العدد التالي	العدد	العدد السابق
.....	40
67	65

السؤال السادس : اكتب اشارة > أو < أو = في المربع لتصبح العبارة صحيحة :

55	<input type="text"/>	55
47	<input type="text"/>	78
23	<input type="text"/>	10

السؤال السابع : جد ناتج الجمع فيما

:

$4 + 4 =$	<input type="text"/>	$8 + 9 =$	<input type="text"/>
$4 + 9 + 6 =$	<input type="text"/>	$7 + 0 =$	<input type="text"/>
$10 + 8 =$	<input type="text"/>	$8 + 1 =$	<input type="text"/>



السؤال الثامن: جد ناتج الطرح فيما

:

$$5 - 5 = \square$$

$$4 - 1 = \square$$

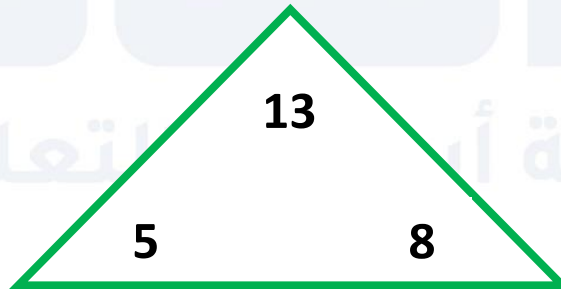
$$10 - 6 = \square$$

$$9 - 0 = \square$$

$$9 - 5 = \square$$

$$18 - 9 = \square$$

السؤال التاسع: اكتب الحقائق المترابطة للأعداد 5 ، 13 ، 8 :



$$\underline{\quad} + \underline{\quad} = \underline{\quad}$$

$$\underline{\quad} - \underline{\quad} = \underline{\quad}$$

$$\underline{\quad} + \underline{\quad} = \underline{\quad}$$

$$\underline{\quad} - \underline{\quad} = \underline{\quad}$$

السؤال العاشر: سئل 20 طفلا عن اللعبة التي يفضلونها ، فكانت إجاباتهم كالآتي:

اللعبة المفضلة	
الطائرة	
الدب	
السيارة	



نظم البيانات في الجدول المجاور ؟

كم طالب يفضل لعبة الطائرة ؟

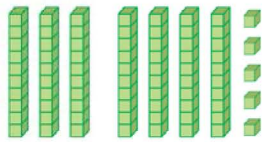
كم طالب يفضل لعبة الدب ؟

كم طالب يفضل لعبة السيارة ؟

انتهت الأسئلة يا بطل مغا نحو التميز

الإجابات

السؤال الأول : اكتب عدد العشرات وعدد الآحاد ، ثم اكتب العدد



عَشَرَاتٍ
7

آحَادٍ
5

الْعَدَدُ
75

السؤال الثاني : حوّل القيمة المنزلية للعدد الذي تحته خط

:



34 (3 30)



95 (5 50)

السؤال الثالث : استمع إلى المعلمة واكتب الأعداد بالأرقام

:

خمسة وتسعون

95

أربعون

40

السؤال الرابع : اكمل العد حسب المطلوب :

0	2	4	6	8	10	12	14	16	18	20
---	---	---	---	---	----	----	----	----	----	----

0	5	10	15	20	25	30	35	40	45	50
---	---	----	----	----	----	----	----	----	----	----

السؤال الخامس : اكتب العدد المناسب في الفراغ :

العدد التالي	العدد	العدد السابق
41	40	39
67	66	65

السؤال السادس : اكتب اشارة > أو < أو = في المربع لتصبح العبارة صحيحة :

55	=	55
47	<	78
23	>	10

السؤال السابع : جد ناتج الجمع فيما

:

$4 + 4 =$	8	$8 + 9 =$	17
$4 + 9 + 6 =$	19	$7 + 0 =$	7
$10 + 8 =$	18	$8 + 1 =$	9



السؤال الثامن: جد ناتج الطرح فيما

:

$5 - 5 =$

0

$4 - 1 =$

3

$10 - 6 =$

4

$9 - 0 =$

9

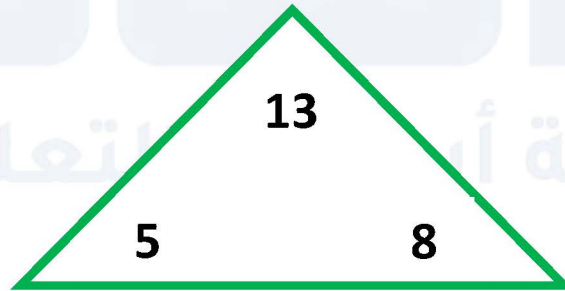
$9 - 5 =$

4

$18 - 9 =$

9

السؤال التاسع: اكتب الحقائق المترابطة للأعداد 5 ، 13 ، 8 :



$8 + 5 = 13$

$13 - 8 = 5$

$5 + 8 = 13$

$13 - 5 = 8$



السؤال العاشر: سئل 20 طفلا عن اللعبة التي يفضلونها ، فكانت إجاباتهم كالآتي:

اللعبة المفضلة		
الطائرة		7
الدب		8
السيارة		5



نظم البيانات في الجدول المجاور ؟

7

كم طالب يفضل لعبة الطائرة ؟

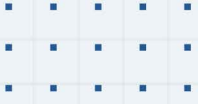
8

كم طالب يفضل لعبة الدب ؟

5

كم طالب يفضل لعبة السيارة ؟

انتهت الأجوبة يا بطل مغا نحو التميز



فيديوهات شرح المادة بشكل كامل على بطاقات أساس



06 222 9990

0799 797 880

