



الصف الثاني

رياضيات


امتحان الشهر الثاني

السؤال الأول : اكتب الأعداد المناسبة في المربعات عموديا العد عشرات وأفقا العد
واحدات:

	431	

السؤال الثاني : اكتب الأعداد الزوجية داخل النجمة والأعداد الفردية داخل القلب:

500 - 144 - 257 - 345



السؤال الثالث : اكتب العدد المناسب في الفراغ يا بطل :

600	
-----	--

534	
-----	--

	500
--	-----

	312
--	-----

السؤال الرابع : اكتب الإشارة المناسبة > أو < أو = في

423 432

999 666

675 675

السؤال الخامس : رتب الأعداد الآتية حسب المطلوب :

تصاعدياً (978 – 854 – 987). _____ , _____ , _____

تنازلياً (78 – 856 – 321). _____ , _____ , _____

السؤال السابع : قرب الأعداد الآتية حسب المطلوب :

إلى أقرب عشرة 654 : _____

إلى أقرب مئة 698 : _____

لنفكر معاً (من أنا ؟)



أنا عدد أكبر من 678 مئة، فمن أنا ؟

أنا عدد أصغر من 455 بعشرة، فمن أنا ؟

أنا العدد التالي للعدد 800، فمن أنا ؟

أنا العدد السابق للعدد 900، فمن أنا ؟

وماً نحو التميز انتهت الأسئلة يا مبري المستقبل




الإجابات

السؤال الأول : اكتب الأعداد المناسبة في المربعات عموديا العد عشرات وأفقيا العد واحدات:

421		
430	431	432
441		

السؤال الثاني : اكتب الأعداد الزوجية داخل النجمة والأعداد الفردية داخل القلب:

500 - 144 - 257 - 345



السؤال الثالث : اكتب العدد المناسب في الفراغ يا بطل :

600 601

534 535

499 500

311 312

السؤال الرابع : اكتب الإشارة المناسبة > أو < أو = في

423 < 432

999 > 666

675 = 675

السؤال الخامس : رتب الأعداد الآتية حسب المطلوب :

تصاعدياً (978 – 854 – 987) .. 987 , 978 , 854

تنازلياً (78 – 856 – 321) .. 78 , 321 , 856

السؤال السابع : قرب الأعداد الآتية حسب المطلوب :

إلى أقرب عشرة 654 : 650

إلى أقرب مئة 698 : 700

لنفكر معاً (من أنا ؟)



أنا عدد أكبر من 678 بمئة، فمن أنا ؟ 778

أنا عدد أصغر من 455 بعشرة، فمن أنا ؟ 445

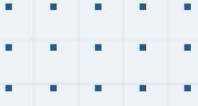
أنا العدد التالي للعدد 800، فمن أنا ؟ 801

أنا العدد السابق للعدد 900، فمن أنا ؟ 899

معاً نحو التميز انتهت الإجابات يا عبقري

المستقبل





فيديوهات شرح المادة بشكل كامل على بطاقات أساس



06 222 9990

0799 797 880

