

رياضيات

3

الصف الثالث

الامتحان النهائي

الفصل الثاني

السؤال الأول : جد ناتج ما يلي يا بطل :

$$12 \times 4 =$$

$$= (\quad \times \quad) + (\quad \times \quad)$$

$$= \quad + \quad$$

$$= \quad$$

$$10 \times 8 =$$

$$\begin{array}{r} 27 \\ \times 4 \\ \hline \end{array}$$

$$8 \overline{)89}$$

$$5 \overline{)47}$$

$$45 \div 5 =$$

السؤال الثاني : لون لتمثيل الكسر، ثم قارن باستعمال < أو > أو = .


$$\frac{2}{3}$$

$$\frac{1}{3}$$

$$\frac{2}{3} \square \frac{1}{3}$$



السؤال الثالث : اقرأ الوقت واستعمل (و) أو (إلا) ، ثم اكتبه بجانب الساعة
يا بطل :



am أو pm

السؤال الرابع : اكتب وقت النشاط في الساعة الرقمية ثم حوط



a.m. p.m.

تناول الغداء

السؤال الخامس : جد طول الفترة الزمنية في كل ممايلي :

التعليمية



البداية: 7:03 a.m.

النهاية: 7:37 a.m.

دقيقة _____



السؤال السادس: استعمل التقويم المجاور وأجب عن الأسئلة التي تليه :

أيلول						
الأحد	الاثنين	الثلاثاء	الأربعاء	الخميس	الجمعة	السبت
			1	2	3	4
5	6	7	8	9	10	11
12	13	14	15	16	17	18
19	20	21	22	23	24	25
26	27	28	29	30	31	

ما اسم هذا الشهر ؟
كم جمعة في هذا الشهر ؟
ما طول الفترة الزمنية بين 7 و 23 أيلول ؟

السؤال السابع: اكتب العدد المفقود :

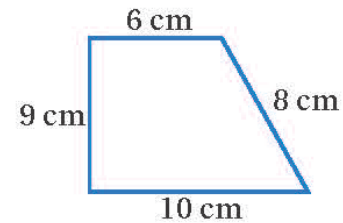

7m = cm

6 km = m

5 kg = g

9 L = mL

السؤال الثامن: احسب ما يلي :



مساحة الشكل = وحدة مربعة

محيط الشكل = سنتيمترًا



السؤال التاسع : حوطة الكلمة المناسبة :



اختيار كرة حمراء :

أكيد مستحيل ممكن



اختيار كرة حمراء :

أكيد مستحيل ممكن



اختيار كرة حمراء :

أكيد مستحيل ممكن

انتهت الأسئلة وتوفاً إلى الصف الرابع



السؤال الأول : جد ناتج ما يلي يا بطل :

$$12 \times 4 =$$

$$= (10 \times 4) + (2 \times 4)$$

$$= 40 + 8$$

$$= 48$$

$$10 \times 8 = 80$$

$$2$$

$$2 \quad 7$$

$$\times \quad 4$$

$$1 \quad 0 \quad 8$$

$$11$$

$$\begin{array}{r} 8 \overline{) 89} \\ - 8 \\ \hline \end{array}$$

$$09$$

$$- 8$$

$$1$$

$$9$$


$$\begin{array}{r} 5 \overline{) 47} \\ - 45 \\ \hline \end{array}$$

$$02$$


$$45 \div 5 = 9$$

السؤال الثاني : لون لتمثيل الكسر، ثم قارن باستعمال < أو > أو = .

$$\frac{2}{3}$$



$$\frac{1}{3}$$



$$\frac{2}{3} > \frac{1}{3}$$



السؤال الثالث : اقرأ الوقت باستعمال (و) أو (إلّا) ، ثم اكتبه بجانب الساعة
يا بطل :



السابعة و خمسون دقيقة
الثامنة إلا عشرة دقائق

السؤال الرابع : اكتب وقت النشاط في الساعة الرقمية ثم حوّل
am أو pm



تناول الغداء

a.m.

p.m.

السؤال الخامس : جد طول الفترة الزمنية في كل ممايلي :



البدايةُ : 7:03 a.m.

النهايةُ : 7:37 a.m.

دقيقةً **34**

السؤال السادس: استعمل التقويم المجاور وأجب عن الأسئلة التي تليه :


أيلول						
الأحد	الاثنين	الثلاثاء	الأربعاء	الخميس	الجمعة	السبت
			1	2	3	4
5	6	7	8	9	10	11
12	13	14	15	16	17	18
19	20	21	22	23	24	25
26	27	28	29	30	31	

ما اسم هذا الشهر ؟ **أيلول**
 كم جمعة في هذا الشهر ؟ **5**
 ما طول الفترة الزمنية بين 7 و
 23 أيلول ؟ **16 يوم**

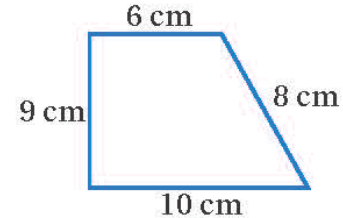
السؤال السابع: اكتب العدد المفقود :

7m = **700** cm
 6 km = **6000** m
 5 kg = **5000** g
 9 L = **9000** mL

السؤال الثامن: احسب ما يلي :



مساحة الشكل = **13** وحدة مربعة



محيط الشكل = **33** سنتيمترا



السؤال التاسع : حوّل الكلمة المناسبة :



اختيار كرة حمراء :

أكيد مستحيل ممكن



اختيار كرة حمراء :

أكيد مستحيل ممكن



اختيار كرة حمراء :

أكيد مستحيل ممكن

انتمت الأجوبة وتعرفنا إلى الصف الرابع



أساس

منصة أساس التعليمية

فيديوهات شرح المادة

بشكل كامل على
منصة أساس



06 222 9990

0799 797 880

