



الصف السادس

رياضيات

ورقة عمل 22

س1: يبين الجدول المجاور عدد الأشجار في إحدى المزارع.

أمثل هذه البيانات باستعمال القطاعات الدائرية.

الشجرة	العدد
الزيتون	40
الليمون	20
البرتقال	10
التين	15
الرمان	35

س2: يبين الجدول المجاور نسبة الطلبة المشاركين في إحدى الرحلات "حسب صفوفهم".

أمثل هذه البيانات باستعمال القطاعات الدائرية.

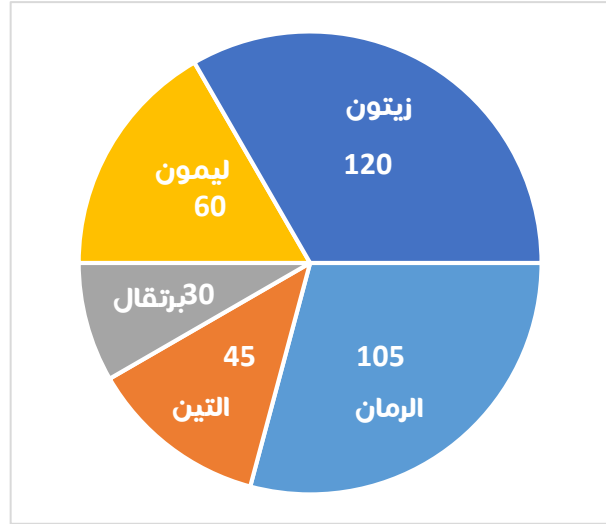
الصف	النسبة
الرابع	10 %
الخامس	20 %
السادس	30 %
السابع	40 %

س1: يبين الجدول المجاور عدد الأشجار في إحدى المزارع.

أمثل هذه البيانات باستعمال القطاعات الدائرية.

الشجرة	العدد	الزاوية
الزيتون	40	120
الليمون	20	60
البرتقال	10	30
التين	15	45
الرمان	35	105

120 360

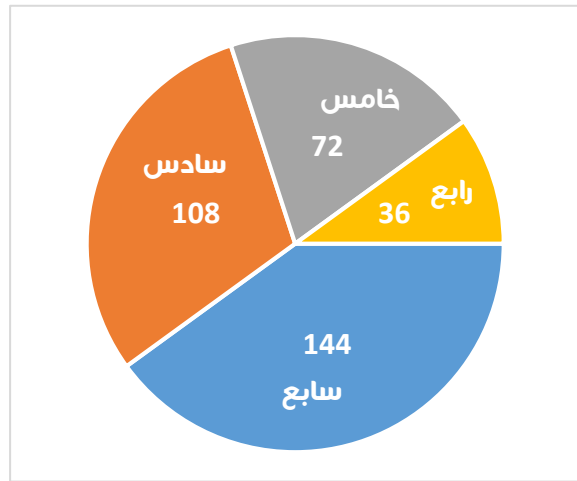


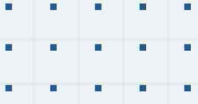
س2: يبين الجدول المجاور نسبة الطلبة المشاركين في إحدى الرحلات "حسب صفوفهم".

أمثل هذه البيانات باستعمال القطاعات الدائرية.

الصف	النسبة	الزاوية
الرابع	10 %	36
الخامس	20 %	72
السادس	30 %	108
السابع	40 %	144

360





فيديوهات شرح المادة بشكل كامل على بطاقات أساس



06 222 9990

0799 797 880

