



الصف الرابع

رياضيات

ورقة عمل 25

س1: أمثل البيانات الآتية بالنقاط:

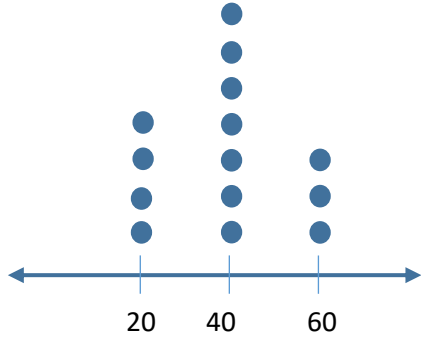
(أ) علامات طلاب في اختبار الرياضيات (العلامة من 5):

3, 5, 1, 2, 4, 4, 3, 2, 1, 1, 2, 5, 5, 4, 3, 2, 4

(ب) قيمة فاتورة الكهرباء الشهرية لإحدى الأسر خلال سنة:

12, 12, 18, 15, 15, 12, 12, 12, 18, 15, 18, 15

منصة أساس التعليمية



س2: يبين التمثيل المجاور عدد الدقائق التي استغرقها محمد في حل واجباته خلال أسبوعين:

(أ) كم مرة استغرق حل الواجب 60 دقيقة.

(ب) ما أقل وقت احتاجه محمد لحل الواجب؟

(ج) ما أكثر وقت تكرر في حل الواجب؟

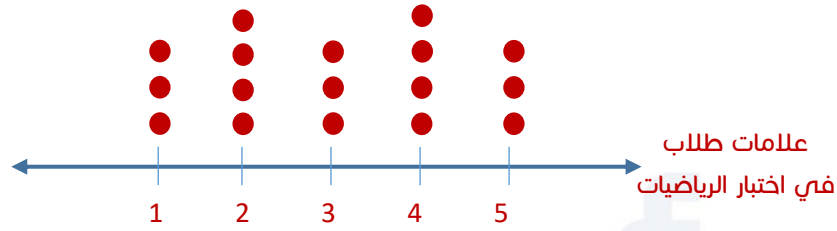
(د) قال حسن أن أكثر وقت استغرقه محمد في حل الواجب هو 40 دقيقة، هل هو على صواب، أبرر إجابتي.

منصة أساس التعليمية

س1: أمثل البيانات الآتية بالنقاط:

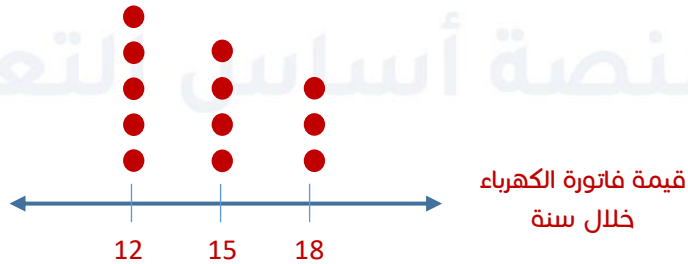
(أ) علامات طلاب في اختبار الرياضيات (العلامة من 5):

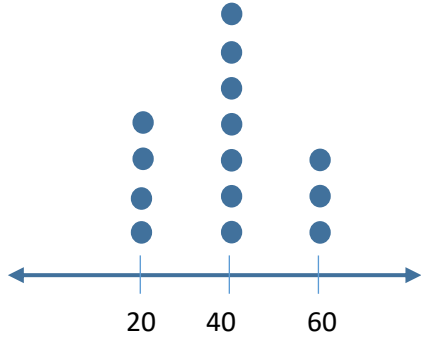
3, 5, 1, 2, 4, 4, 3, 2, 1, 1, 2, 5, 5, 4, 3, 2, 4



(ب) قيمة فاتورة الكهرباء لإحدى الأسر خلال سنة:

12, 12, 18, 15, 15, 12, 12, 12, 18, 15, 18, 15





س2: يبين التمثيل المجاور عدد الدقائق التي استغرقها محمد في حل واجباته خلال أسبوعين:

(أ) كم مرة استغرق حل الواجب 60 دقيقة.

ثلاث مرات

(ب) ما أقل وقت احتاجه محمد لحل الواجب؟

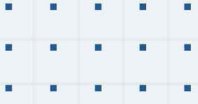
20 دقيقة

(ج) ما أكثر وقت تكرر في حل الواجب؟

40 دقيقة

(د) قال حسن أن أكثر وقت استغرقه محمد في حل الواجب هو 40 دقيقة، هل هو على صواب، أبرر إجابتي.

خطأ ، (60 دقيقة) أكبر وقت



فيديوهات شرح المادة بشكل كامل على بطاقات أساس



06 222 9990

0799 797 880

